


Nume.....

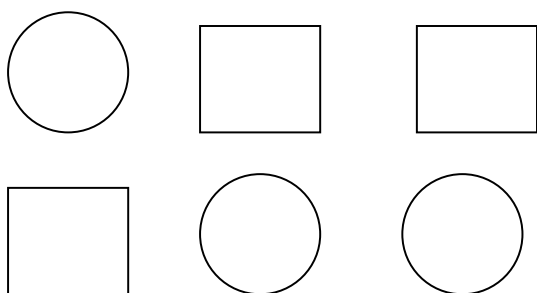
Data.....

FIȘĂ DE LUCRU


1. Colorează cu albastru stelutele . Câte sunt?



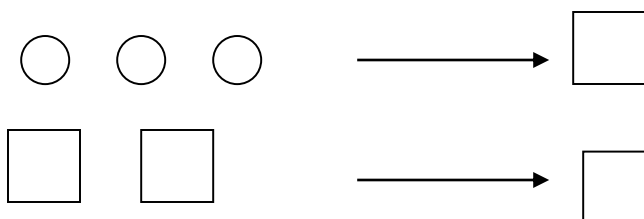
2. Colorează cercurile cu culoarea preferată.



3. Descoperă și colorează cu roșu pătratele.



4. Scrie numărul figurilor geometrice:



FELICITĂRI! TE-AI DESCURCAT MINUNAT!



Nume.....

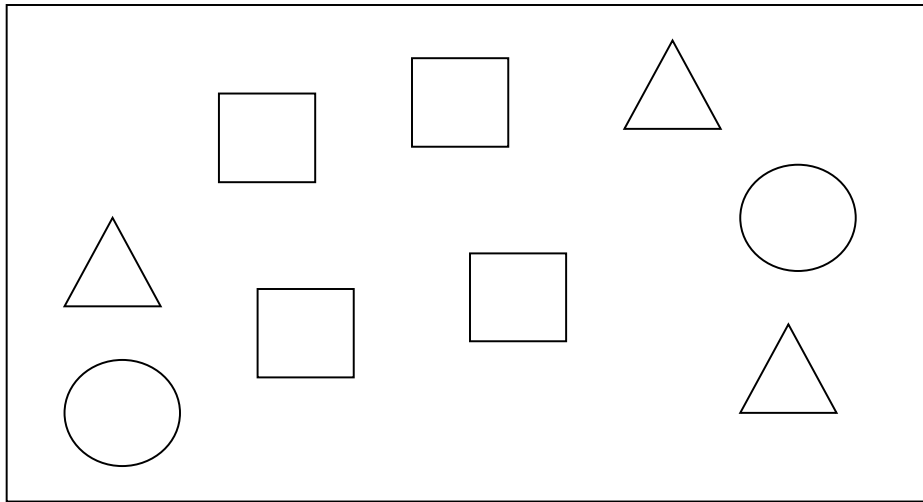
Data.....

FIȘĂ DE LUCRU

1. a) . Spune ce reprezinta imaginile și denumește-le.

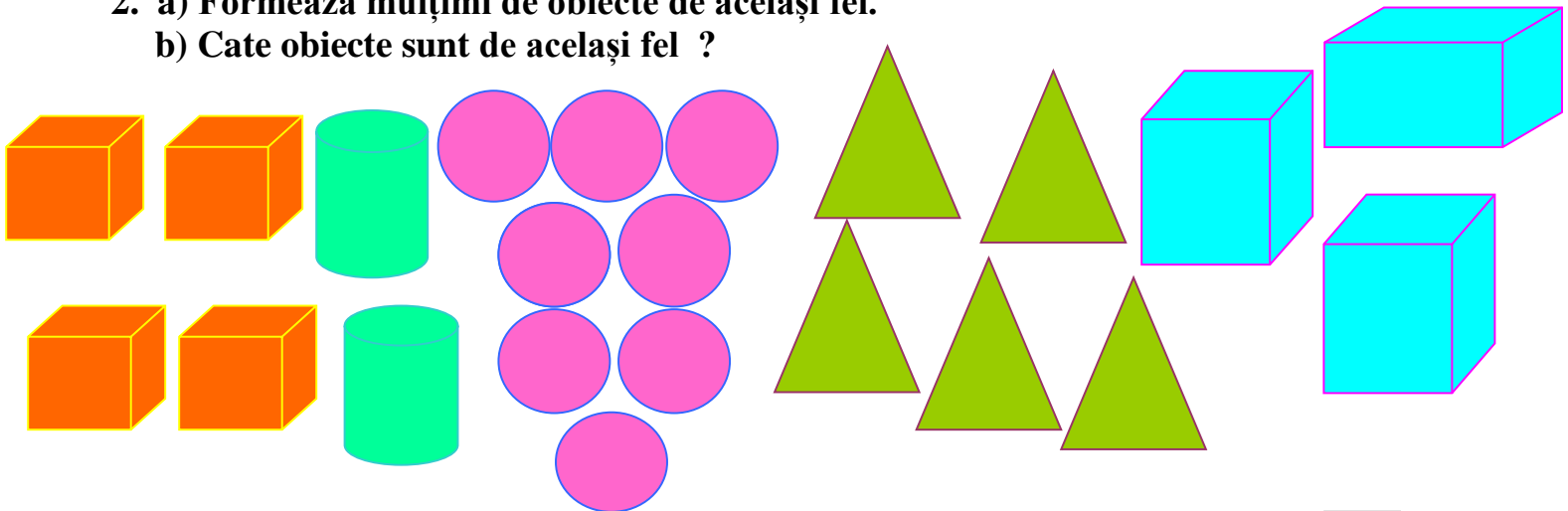
b).Formează grupa pătratelor și colorează-le cu roșu.

c).Colorează cu galben cercurile.



2. a) Formează mulțimi de obiecte de același fel.

b) Cate obiecte sunt de același fel ?



FELICITĂRI! TE-AI DESCURCAT MINUNAT!

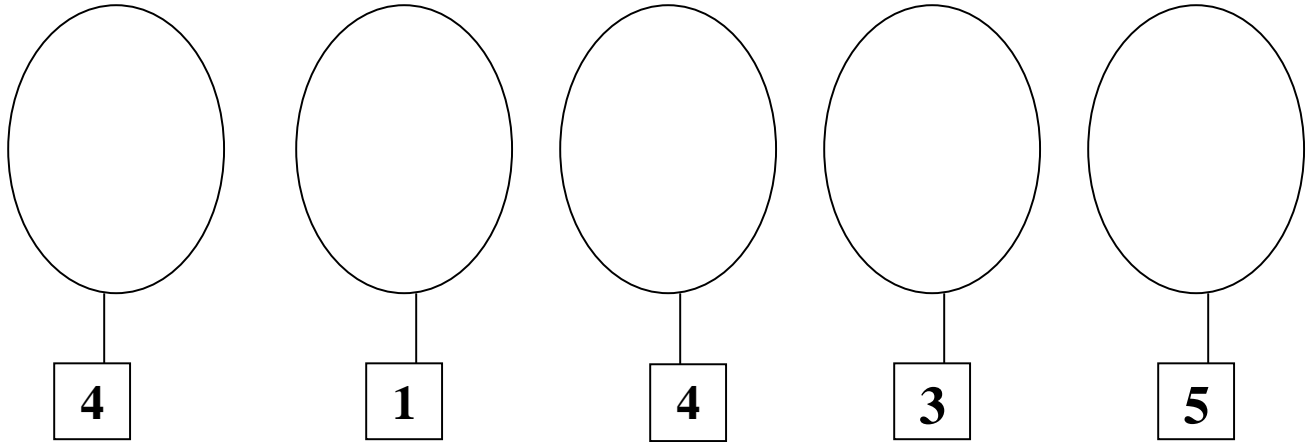


Nume:.....

Data:

FIȘĂ DE LUCRU

1. Desenează atâtea obiecte câte indică cifra:



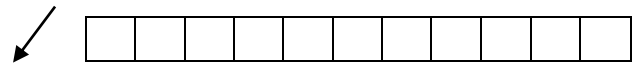
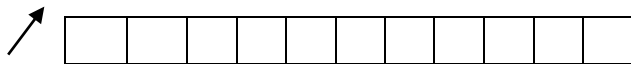
2. Completează !

a) 0 ; 1 ; 2 ; ; ; ; ; 7 ; ; ; ; ; 12.

b) 4 ; 5 ; ; 7 ; ; 9 ; ; 11 ; ;

c) 2 ; 3 ; ; ; ; 7 ; ; ; ; 11 ;

3. Scrie cifrele 0, 1, 2, 3, 4, 5 în ordine crescătoare și descrescătoare.



4. Scrie vecinii numerelor:

.... 3

..... 9

..... 7

..... 9

..... 12

..... 6

..... 5

..... 8

..... 10

FELICITĂRI! TE-AI DESCURCAT MINUNAT!



Nume:

Data:

FIȘĂ DE LUCRU

1. Scrie în ordine crescătoare și descrescătoare numerele cuprinse între 3 și 12.

	3																				
	1	2																			

3. Descoperă regula și continuă!

a) \nearrow 0 ; ; 4; ; ; 10;

b) \searrow 12 ; ; 8 ; ; ; 2 ; 0 .

c) \nearrow 0 ; ; 5 ; ; 9 ;

d) \searrow 11 ; ; 7 ; ; 3 ;

3. Încercuiește numărul mai mic:

5 12	3 5	1 9	2 6
---------	--------	--------	--------

8 11	7 10	0 5	4 9
---------	---------	--------	--------

4. Încercuiește numărul mai mare:

4 9	8 1	7 1	3 9
--------	--------	--------	--------

12 2	3 10	6 5	11 6
---------	---------	--------	---------

FELICITĂRI! TE-AI DESCURCAT MINUNAT!

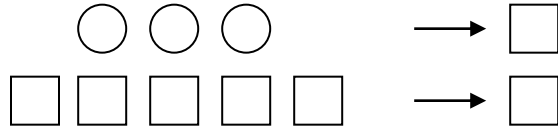


Nume.....

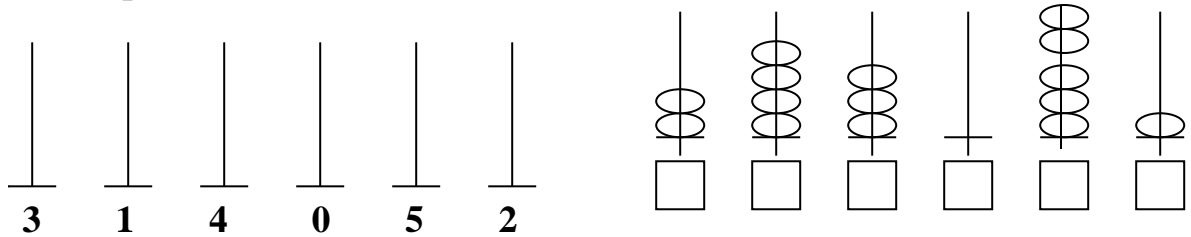
Data.....

FIȘĂ DE LUCRU

1.Scrie numărul figurilor geometrice:



2.Reprezintă pe numărătoare numerele date:



3. a) Încercuiește numărul mai mic .

3	1
2	4
5	2
1	0

b) Încercuiește numărul mai mare.

2	3
1	0
5	4
4	1

4.Scrie vecinii numerelor:

<input type="text"/>	3	<input type="text"/>	<input type="text"/>	9	<input type="text"/>
<input type="text"/>	1	<input type="text"/>	<input type="text"/>	8	<input type="text"/>
<input type="text"/>	5	<input type="text"/>	<input type="text"/>	7	<input type="text"/>
<input type="text"/>	2	<input type="text"/>	<input type="text"/>	4	<input type="text"/>

5.Scrie numerele în ordine crescătoare și descrescătoare.

3 2 5 0 1 4

↗

↘

FELICITĂRI! TE-AI DESCURCAT MINUNAT!



Nume:.....

Data:.....

FIȘĂ DE LUCRU

1. Compară numerele :

$$\begin{array}{r} 1 \square \quad 11 \\ 12 \square \quad 3 \\ 6 \square \quad 7 \end{array}$$

$$\begin{array}{r} 2 \square \quad 10 \\ 7 \square \quad 7 \\ 8 \square \quad 11 \end{array}$$

$$\begin{array}{r} 9 \square \quad 8 \\ 12 \square \quad 9 \\ 2 \square \quad 2 \end{array}$$

2. Numără descrescător de la 12 la 0:

3. Numără crescător de la 0 la 12:

4. Scrie vecinii numerelor:

$$\square \quad 6 \quad \square$$

$$\square \quad 2 \quad \square$$

$$\square \quad 4 \quad \square$$

$$\square \quad 6 \quad \square$$

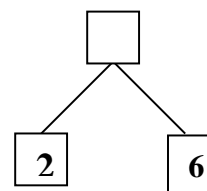
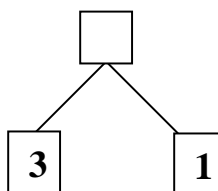
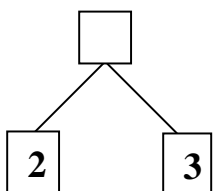
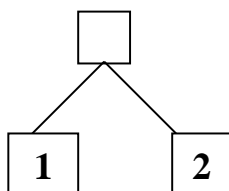
$$\square \quad 8 \quad \square$$

$$\square \quad 5 \quad \square$$

$$\square \quad 3 \quad \square$$

$$\square \quad 9 \quad \square$$

5. Completează caseta:



FELICITĂRI! TE-AI DESCURCAT MINUNAT!




Nume.....

Data.....

FIȘĂ DE LUCRU

1. Martinel vrea să știe câți pești a pescuit ieri și azi:










$1 + 1 = \square$ $\square + \square = \square$

2. Privește imaginile și calculează :



$\square + \square = \square$ $\square + \square = \square$

3. Scrie pe fiecare filă rezultatul adunării din casetă. Colorează filele:

$3 + 1$	$1 + 8$	$5 + 1$	$1 + 1$	$1 + 6$	$4 + 1$	$1 + 9$
						

4. Scrie în casetă câți fulgi au rămas de fiecare dată:

 \square  \square  \square

FELICITĂRI! TE-AI DESCURCAT MINUNAT!



Nume.....

Data.....

FIȘĂ DE LUCRU

1. Unește rezultatul:

7 - 1	2 - 1	9 - 1	3 - 1	5 - 1	4 - 1	6 - 1
8	6	1	4	2	5	3








2. Câte un norișor a fost luat de vânt. Scrie operația și calculează :

										
<input type="text"/>	-	<input type="text"/>	=	<input type="text"/>	<input type="text"/>	<input type="text"/>	<input type="text"/>	<input type="text"/>	<input type="text"/>	<input type="text"/>

3. Calculează:

		1	+	2	=			3	+	1	=			1	+	4	=		
		8	+	1	=			1	+	1	=			7	+	1	=		
		5	+	1	=			8	+	1	=			2	+	1	=		
		1	+	9	=			1	+	6	=			1	+	6	=		

3. Albă ca Zăpada a pregătit cănuțele cu lapte pentru pitici. Unul nu vrea lapte azi. Câți pitici beau lapte? Scrie și rezolvă operația:

						
<input type="text"/>	<input type="text"/>	<input type="text"/>	<input type="text"/>	<input type="text"/>	<input type="text"/>	<input type="text"/>

FELICITĂRI! TE-AI DESCURCAT MINUNAT!




Nume.....


Data.....

FIȘĂ DE LUCRU

1. Câți copii au venit la săniuș de fiecare dată?



4	+	2	=	
---	---	---	---	--



--	--	--	--	--

2. Oamenii de zăpadă s-au întâlnit în poiană. Câți sunt?



--	--	--	--	--

3. Completează casetele goale:

<table border="1"> <tr><td>★</td></tr> <tr><td>★</td></tr> <tr><td>★</td></tr> <tr><td>★</td></tr> </table>	★	★	★	★	+	<table border="1"> <tr><td>4</td></tr> <tr><td>2</td></tr> </table>	4	2	+	<table border="1"> <tr><td>▲</td></tr> <tr><td>▲</td></tr> <tr><td>▲</td></tr> <tr><td>▲</td></tr> </table>	▲	▲	▲	▲	+	<table border="1"> <tr><td>2</td></tr> <tr><td></td></tr> </table>	2		+	<table border="1"> <tr><td>★</td></tr> <tr><td>★</td></tr> <tr><td>★</td></tr> <tr><td>★</td></tr> </table>	★	★	★	★	+	<table border="1"> <tr><td></td></tr> <tr><td></td></tr> </table>			+	<table border="1"> <tr><td>■</td></tr> <tr><td>■</td></tr> <tr><td>■</td></tr> </table>	■	■	■	+	<table border="1"> <tr><td></td></tr> <tr><td></td></tr> </table>			+
★																																						
★																																						
★																																						
★																																						
4																																						
2																																						
▲																																						
▲																																						
▲																																						
▲																																						
2																																						
★																																						
★																																						
★																																						
★																																						
■																																						
■																																						
■																																						

4. Rezolvă operațiile :

		2	+	2	=			4	+	1	=			6	-	1	=		
		5	+	2	=			6	+	2	=			1	+	2	=		
		8	+	2	=			2	+	6	=			1	0	-	1	=	
		2	+	7	=			1	+	7	=			2	+	8	=		
		1	0	-	0	=		2	+	4	=			3	+	2	=		

Nume.....

Data.....

FIȘĂ DE LUCRU

1. Privește și scrie în casete:



3	-	2	=	
---	---	---	---	--



--	--	--	--	--



--	--	--	--	--

2. Scrie pe steluțe rezultatele scăderilor. Poți colora steluțele?

7 + 3

4 + 2

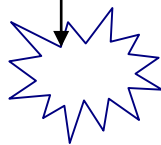


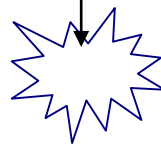
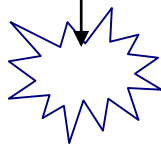


9 - 2

6 + 3

3 - 2

5 + 2

8 - 5



3. Rezolvă exercițiile:

		2	-	1	=			4	+	3	=			6	-	1	=		
		5	-	2	=			7	-	2	=			7	+	3	=		
		8	-	7	=			3	+	3	=			1	0	+	2	=	
		4	+	5	=			6	+	4	=			1	+	9	=		

4. Colorează caseta cu rezultatul corect:

6 - 3 =

3

4

5

10 - 2 =

8

2

7

3 - 1 =

2

1

5

9 - 5 =

4

7

8

4 - 2 =

1

3

2

8 - 2 =

3

9

6

FELICITĂRI! TE-AI DESCURCAT MINUNAT!

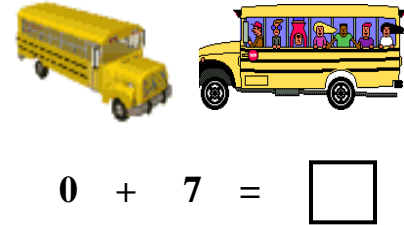
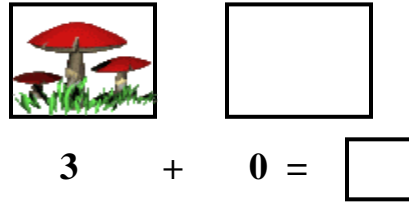



Nume.....

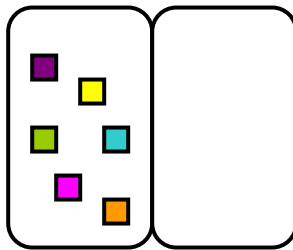
Data.....

FIȘĂ DE LUCRU


1 Privește imaginile și calculează:



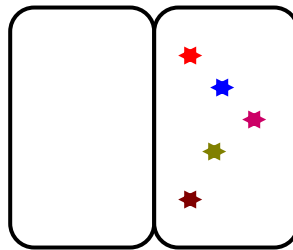
2. Rezolvă după model:



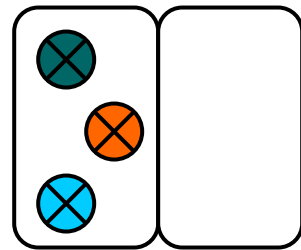
$6 + 0 =$



\square

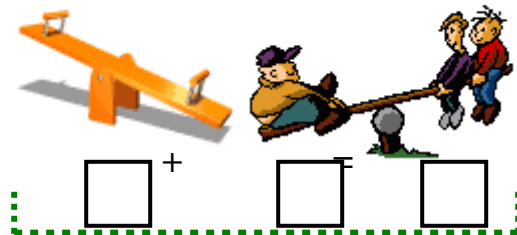


\square



\square

3. Câți copii sunt pe cele două leagăne? Scrie operația și rezolvă:



4. Calculează:


	4	+	1	=			0	+	2	=			5	-	3	=		
	6	+	3	=			8	+	4	=			1	+	9	=		
	8	+	2	=			3	+	7	=			6	-	2	=		
1	0	-	1	=			7	-	2	=			1	0	+	0	=	
	3	-	1	=			6	-	5	=			2	+	2	=		

Nume.....

Data.....

FIȘĂ DE LUCRU

1. Pisoii vor să scoată peștii din acvarii, dar nu reușesc. Câți pești rămân în fiecare acvariu?



$1 - 0 = 1$



$2 - 0 =$



2. Omuleții de zăpadă te invită să încercuiești rezultatul corect:

$5 - 0 = 4$	5	6
$0 + 2 = 0$	3	2
$9 - 0 = 1$	0	9
$10 - 0 = 10$	9	1



$3 - 0 = 4$	3	5
$7 - 0 = 0$	6	7
$4 + 0 = 1$	4	2
$10 + 0 = 10$	9	1



$6 - 0 = 4$	5	6
$0 + 8 = 0$	8	9
$9 - 0 = 1$	0	9
$4 - 0 = 1$	4	6

3. Completează caseta goală:

- 0 = 6

- 9 = 1

9 - 0 =

4. Vrei să verifici ce-ai învățat?


$4 + 0 =$	$0 + 2 =$	$2 - 2 =$
$6 - 0 =$	$8 - 0 =$	$1 + 0 =$
$7 + 1 =$	$0 + 1 =$	$9 - 0 =$
$10 - 2 =$	$5 - 2 =$	$3 - 1 =$
$2 + 5 =$	$3 + 0 =$	$1 + 3 =$

Nume.....


Data.....

FIȘĂ DE LUCRU

1. Privește și completează casetele:



1 + 3 =



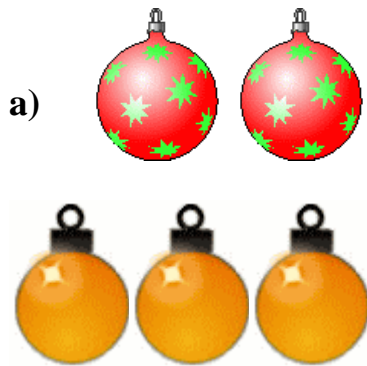
+ =

2. Completează după model:

<input type="text"/> + 3 = 6	<input type="text"/> + 3 = 9	5 + <input type="text"/> = 8	3 + <input type="text"/> = 3
<input type="text"/> + 3 = 4	<input type="text"/> + 7 = 10	3 + <input type="text"/> = 5	4 + <input type="text"/> = 7

3. Privește imaginile, spune „povestea” problemelor și rezolvă:

a)




b)



a)

b)

4. Vrei să verifici ce-ai învățat? Dă-ți calificativul pe care-l meriți:

<input type="text"/>	<input type="text"/>	1 + 3 =	<input type="text"/>	<input type="text"/>	<input type="text"/>	0 + 3 =	<input type="text"/>	<input type="text"/>	<input type="text"/>	2 + 3 =	<input type="text"/>	<input type="text"/>	<input type="text"/>
<input type="text"/>	<input type="text"/>	3 + 0 =	<input type="text"/>	<input type="text"/>	<input type="text"/>	8 - 0 =	<input type="text"/>	<input type="text"/>	<input type="text"/>	3 + 4 =	<input type="text"/>	<input type="text"/>	<input type="text"/>
<input type="text"/>	<input type="text"/>	7 + 3 =	<input type="text"/>	<input type="text"/>	<input type="text"/>	0 + 6 =	<input type="text"/>	<input type="text"/>	<input type="text"/>	9 - 2 =	<input type="text"/>	<input type="text"/>	<input type="text"/>
<input type="text"/>	<input type="text"/>	5 + 3 =	<input type="text"/>	<input type="text"/>	<input type="text"/>	4 - 2 =	<input type="text"/>	<input type="text"/>	<input type="text"/>	2 + 6 =	<input type="text"/>	<input type="text"/>	<input type="text"/>
<input type="text"/>	<input type="text"/>	3 + 6 =	<input type="text"/>	<input type="text"/>	<input type="text"/>	3 + 3 =	<input type="text"/>	<input type="text"/>	<input type="text"/>	5 - 1 =	<input type="text"/>	<input type="text"/>	<input type="text"/>

Nume.....

Data.....

FIȘĂ DE LUCRU

1. Privește imaginile și completează casele goale:



4	-	3	=	
---	---	---	---	--



5	-		=	
---	---	--	---	--


2. Scrie și rezolvă operațiile care rezultă:



--

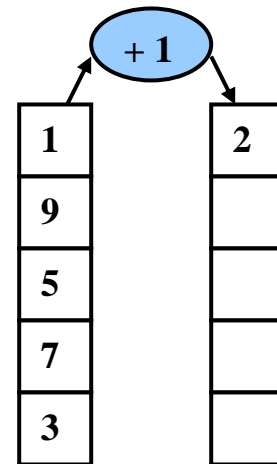
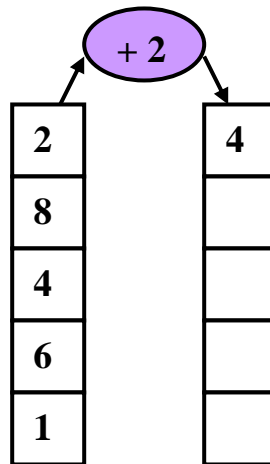
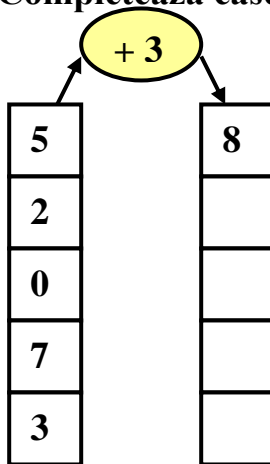


--



--

3. Completează casele:



4. Rezolvă operațiile:

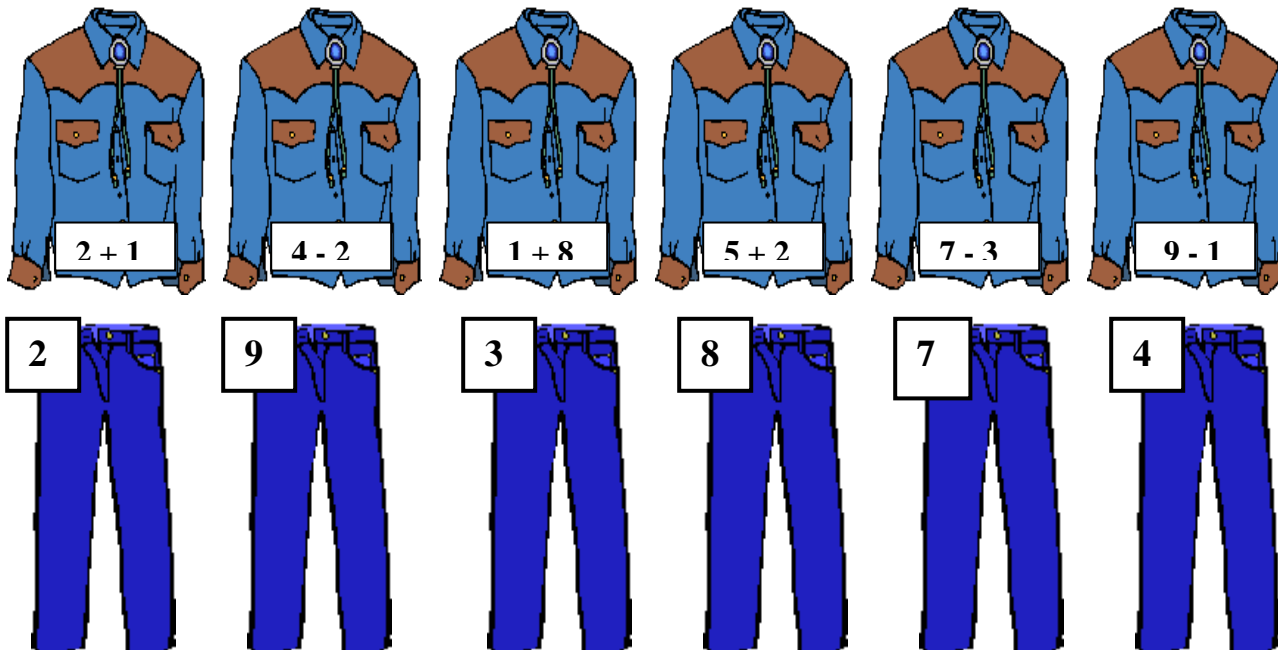
		8	-	3	=	5			2	+	3	=			6	+	3	=				
		4	+	3	=				6	-	5	=			3	-	2	=				
		7	-	3	=				7	+	3	=			9	-	3	=				
		3	-	3	=				2	-	1	=			7	+	1	=				
		5	+	3	=				3	+	3	=			8	-	4	=				

Nume.....

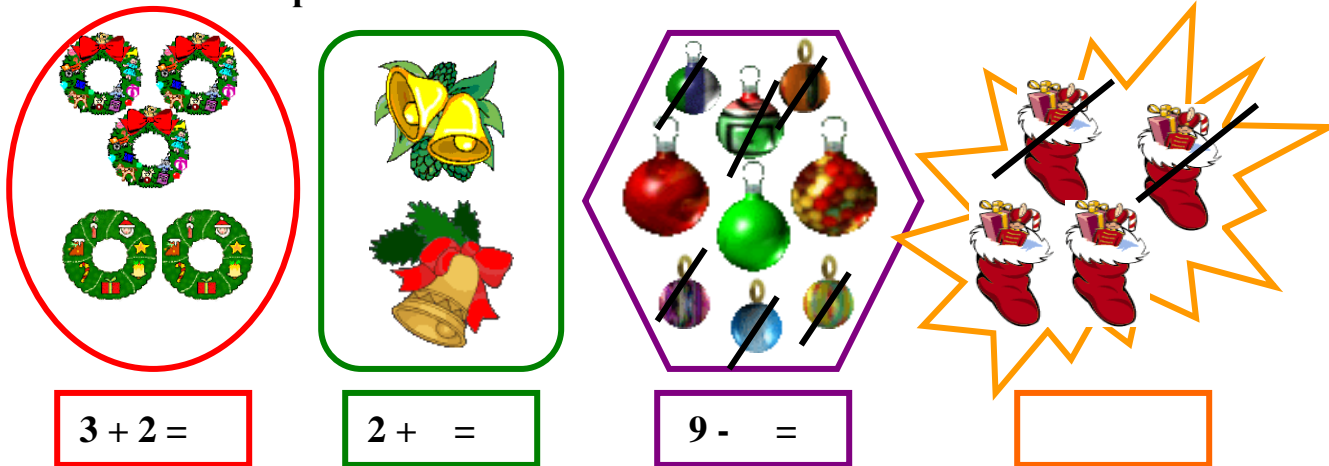
Data.....

FIȘĂ DE LUCRU

1. Unește cămașa cu blugii potriviți:




2. Aura a cumpărat ornamente de Crăciun. Câte a luat de fiecare fel?



3. Încercuiește rezultatul corect:

$2 + 4 = 3$ 5 6 $7 - 1 = 1$ 6 7 $8 - 4 = 4$ 5 7 $5 - 5 = 0$ 1 2
 $9 - 1 = 8$ 0 9 $0 + 4 = 0$ 7 4 $5 + 3 = 7$ 8 9 $2 + 8 = 10$ 9 3
 $8 + 0 = 8$ 0 9 $5 + 3 = 7$ 8 9 $10 - 1 = 3$ 4 9 $3 + 3 = 4$ 5 6

4. Să colorăm!





Nume.....

Data.....

FIȘĂ DE LUCRU

1. Scrie și rezolvă adunările rezultate din desene:

		$4 + 3 =$

2. Colorează la fel casetele care conțin operații cu același rezultat:

$8 - 3 =$	
$6 + 2 =$	
$5 + 1 =$	
$0 + 3 =$	

$7 - 4 =$	
$5 - 3 =$	
$2 + 1 =$	
$1 + 3 =$	

$2 + 4 =$	
$5 + 3 =$	
$10 - 2 =$	
$3 + 3 =$	

$4 + 1 =$	
$7 - 1 =$	
$9 - 4 =$	
$3 - 2 =$	

3. Calculează:

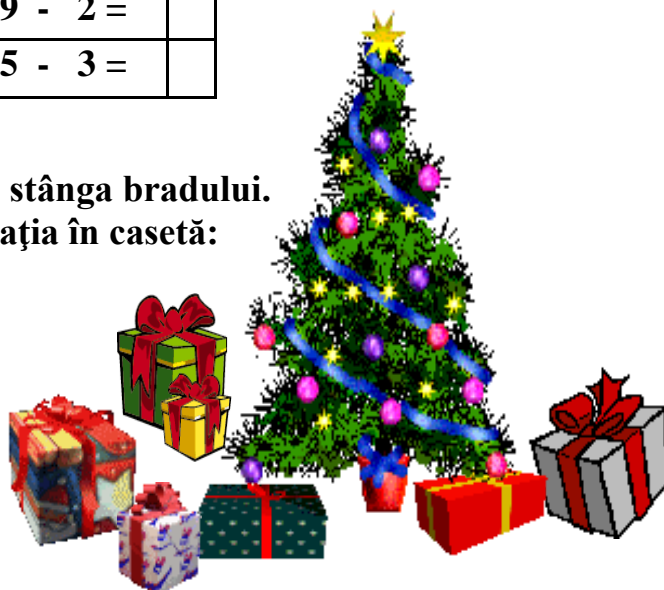
$8 - 2 =$	
$9 - 7 =$	
$6 - 1 =$	

$10 - 9 =$	
$6 - 2 =$	
$3 - 2 =$	

$10 - 1 =$	
$9 - 2 =$	
$5 - 3 =$	

4. Moș Crăciun a așezat cadouri în dreapta și în stânga bradului. Câte cadouri sunt, în total, sub brad? Scrie operația în casetă:

--



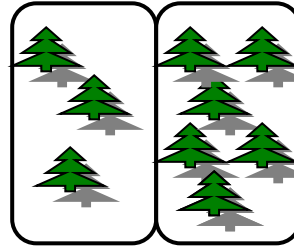
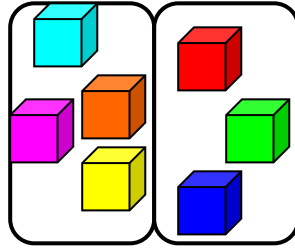
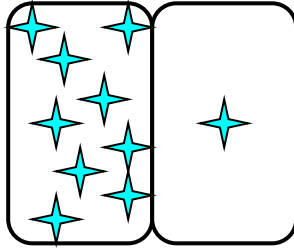
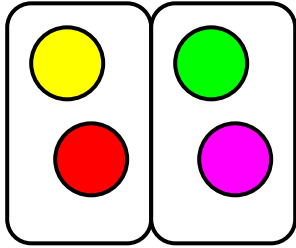


Nume.....









Data.....

FIȘĂ DE LUCRU

1. Scrie și rezolvă operațiile după desene:



2. Adună numerele scrise pe oamenii de zăpadă și scade-le pe cele de pe brăduți. Colorează:

							
<input type="text"/>	<input type="text"/>	<input type="text"/>	<input type="text"/>	<input type="text"/>	<input type="text"/>	<input type="text"/>	<input type="text"/>

3. Unește operațiile din casete cu rezultatele lor:

$1 + 7$	$5 - 3$	$4 + 2$	$8 - 3$	$2 + 5$	$10 - 1$	$3 + 0$
---------	---------	---------	---------	---------	----------	---------

6	2	8	9	5	3	7
---	---	---	---	---	---	---



Nume.....

Data.....

FIȘĂ DE LUCRU

1. Completează casetele după imagini:



2. Unește casetele cu adunări cu casetele cu rezultatele lor:

$1 + 4$	$5 + 4$	$4 + 4$	$4 + 6$	$4 + 2$	$0 + 4$	$4 + 3$
---------	---------	---------	---------	---------	---------	---------

9	8	5	6	10	7	4
---	---	---	---	----	---	---

3. Privește imaginile, spune „povestea” problemelor și rezolvă:



a)

b)

4. Poți să te verifici! Ce calificativ meriți?

		4	+	5	=				4	+	2	=				2	+	2	=				
		6	+	4	=				4	-	1	=				1	0	-	3	=			
		0	+	4	=				5	+	3	=				4	+	4	=				
		4	+	2	=				9	-	2	=				6	+	2	=				
		3	+	4	=				1	+	4	=				1	0	-	1	=			
		7	-	3	=				4	-	3	=				5	+	2	=				



Nume.....

Data.....

FIȘĂ DE LUCRU

1. Scrie adunările după imagini:







2. Verifică ce știi și scrie calificativul meritat:

	1	+	5	=		3	+	2	=		4	+	4	=						
	5	+	5	=		9	-	4	=		10	-	3	=						
	5	+	3	=		0	+	5	=		5	+	2	=						
	4	+	5	=		7	-	1	=		8	-	0	=						

3. Colorează cu aceeași culoare casetele care corespund:

5 - 5
8 - 5
10 - 5
6 - 5
9 - 5
7 - 5

5
0
3
2
1
4

4. Completează casetele:

-3

4
7
3
9

1

-4

8
6
4
5

4

-5

5
9
6
8

0

Nume.....

Data.....

FIȘĂ DE LUCRU

1. Verifică ce știi și acordă-ți calificativul meritat:

	1	0	-	5	=				3	+	5	=				4	+	3	=				
		7	-	5	=				9	-	4	=				1	0	-	1	=			
		9	-	5	=				0	+	5	=				5	+	2	=				
		5	-	5	=				8	-	1	=				8	-	5	=				

2. Observă rigletele și completează rezultatele din casete:



3 + 2 =

3 + 1 =

2 + 4 =

2 + 3 =

1 + 3 =

4 + 2 =

5 - 3 =

4 - 3 =

6 - 2 =

5 - 2 =

4 - 1 =

6 - 4 =

3. Ce lipsește?

5 + 4 =

+ 5 = 8

6 + = 7

4 + = 9

4 + = 8

1 + = 9

9 - = 4

8 - = 5

7 - = 3

- 4 = 5

8 - = 4

9 - = 2



FELICITĂRI! TE-AI DESCURCAT MINUNAT!

Nume.....

Data.....

FIȘĂ DE LUCRU






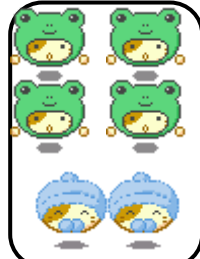
1. Unește fiecare rezultat cu exercițiul corespunzător:

5	$3 - 2$	$3 + 4$	6
3	$8 - 3$	$6 - 3$	4
1	$4 - 4$	$8 - 4$	7
0	$2 + 1$	$2 + 4$	3

2. Completează casetele goale:

1	+		=	5		+	3	=	8	1	+		=	1
	+	1	=	5	5	+		=	8	1	-		=	1
5	-		=	1	9	-		=	6	7	-		=	3
5	-		=	4		+	3	=	9		+	3	=	7

3. Scrie și rezolvă operațiile sugerate de imagini:

FELICITĂRI! TE-AI DESCURCAT MINUNAT!



Nume:.....

Data:.....

FIȘĂ DE LUCRU

1. Efectuează:

$4 + 5 - 6 =$

$7 - 6 - 1 =$

$7 - 1 + 2 =$

$1 + 4 + 5 =$

$8 - 4 + 4 =$

$6 + 0 - 4 =$

2. Unește corespunzător:

$1 + 2 =$

$4 + 2 =$

$6 + 2 =$

$5 + 5 =$

$3 + 4 =$

6

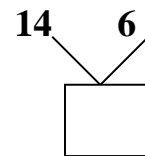
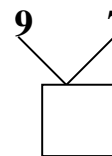
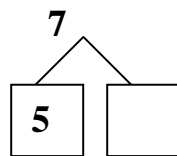
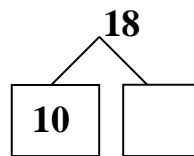
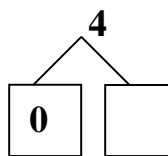
3

8

7

10

3. Completează caseta corect!



4. Descoperă rezultatul corect.

$8 - 5 =$

$10 - 8 =$

$7 + 3 =$

$9 - 5 =$

$10 + 2 =$

5. Colorează florile respectând codul:





10 - galben



8 - roșu



4 - albastru



$1 + 7 =$

$2 + 2 =$

$3 + 7 =$

$2 + 6 =$

$4 + 0 =$

$5 + 5 =$

FELICITĂRI! TE-AI DESCURCAT MINUNAT!



Nume:.....

Data:.....

FIȘĂ DE LUCRU

1. Calculați:

$3 + 5 =$

$8 - 2 =$

$6 - 4 =$

$8 + 1 =$

$7 - 3 =$

$7 + 3 =$

2. Încercuiește rezultatul corect:

$7 - 1 = 6 \quad 4 \quad 2$

$8 - 3 = 3 \quad 0 \quad 5$

$9 - 5 = 5 \quad 9 \quad 4$

$10 - 0 = 0 \quad 6 \quad 10$

$3 + 3 = 3 \quad 6 \quad 9$

$5 + 4 = 5 \quad 9 \quad 4$

3. Efectuează:

$4 + 4 - 4 =$

$1 + 3 + 5 =$

$7 - 6 - 1 =$

$8 - 4 + 4 =$

$7 - 1 + 2 =$

$6 + 0 - 4 =$


4. Completați tabelele:

+	2	6	5	1
4				

-	7	9	5	8
9				

5. Într-un coș sunt 5 mere și 2 pere. Câte fructe sunt în coș?

--	--	--	--	--	--	--	--	--	--	--	--	--	--	--



FELICITĂRI! TE-AI DESCURCAT MINUNAT!



Nume:

Data:.....

FIȘĂ DE LUCRU

1. Tatiana are  mere.

Toma are  mere.

Tatiana + Toma ?

--	--	--	--	--	--	--	--	--	--	--	--	--	--	--

2. Efectuează:

$4 + 5 =$

$7 - 6 =$

$7 - 1 =$

$3 + 8 =$

$8 - 4 =$

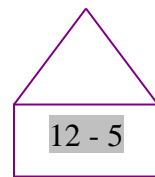
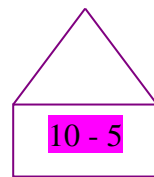
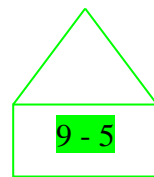
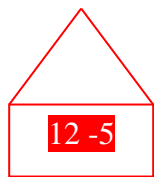
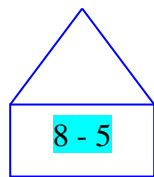
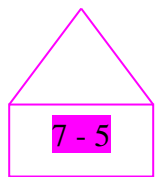
$6 - 4 =$

$10 + 2 =$

$11 + 1 =$

$12 - 2 =$

3. Scrie numărul fiecărei case:



4. Ajut-o pe Rița-Veverița să găsească ghinda cu rezultatul corect:

$3 + 8 =$


$12 - 8 =$

$6 + 2 =$

$10 + 2 =$

$7 + 3 =$

$12 - 6 =$



FELICITĂRI! TE-AI DESCURCAT MINUNAT!



Nume:

Data:.....

FIȘĂ DE LUCRU

1. Socotește corect:

10	-	7	=					10	+	1	=		
9	-	5	=					8	+	2	=		
10	+	2	=					12	-	12	=		
7	-	6	=					6	+	3	=		

2. Într-o poieniță erau 7 buburuze, 3 au obosit și s-au oprit să se odihnească. Câte buburuze și-au continuat zborul?



--	--	--	--	--	--	--	--	--	--	--	--	--	--

3. EU, AZOR, AM 2 OASE, DE-MI MAI DĂ STĂPÂNA 3,



CÂTE OASE VOI MÂNCA, DISEARĂ LA CINA MEA?



--	--	--	--	--	--	--	--	--	--	--	--	--	--

FELICITĂRI! TE-AI DESCURCAT MINUNAT!

